

Galleries de l'histoire

IMAGINER LA VILLE LES MAQUETTES HISTORIQUES DE NEUCHÂTEL

Carnet pour les élèves du cycle 2 (5-8 Harmos)



Prénom : _____

1. PETITE VILLE DEVIENDRA GRANDE...

Observe comment la ville se développe entre le Moyen Âge et l'Époque moderne. Classe les maquettes de la plus ancienne à la plus récente et indique l'année de chacune d'elles.

Année : _____



Année : _____



1

2

3

Année : _____



2. UNE VILLE FORTIFIÉE

Observe bien la première maquette (1180). En plus des remparts, trois éléments naturels permettent de protéger le château et la petite ville qui commence à se développer ; quels sont-ils ?

1.

2.

3.

3. EN CHANTIER !

Sur la même maquette, au haut de la colline, un bâtiment important dans la vie religieuse de la cité est en construction. Lequel est-ce ?

.....

4. QUI TRAVAILLE OÙ ?

Trace un trait entre les personnages et les lieux où ils « travaillent ».



Seigneur



Chanoine



Meunier



Guet



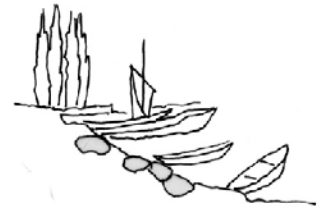
Pêcheur



Marchand



Collégiale



Port



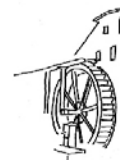
Marché



Tour



Château




Moulin

5. COLORIE UNE GRAVURE !

Au temps de la quatrième maquette (1650), un certain Matthieu a dessiné la ville.

Colorie le lac en bleu, les toits des maisons en rouge, les vignes et les arbres en vert et laisse le château en blanc !



6. UN DÉVELOPPEMENT DANS DEUX DIRECTIONS

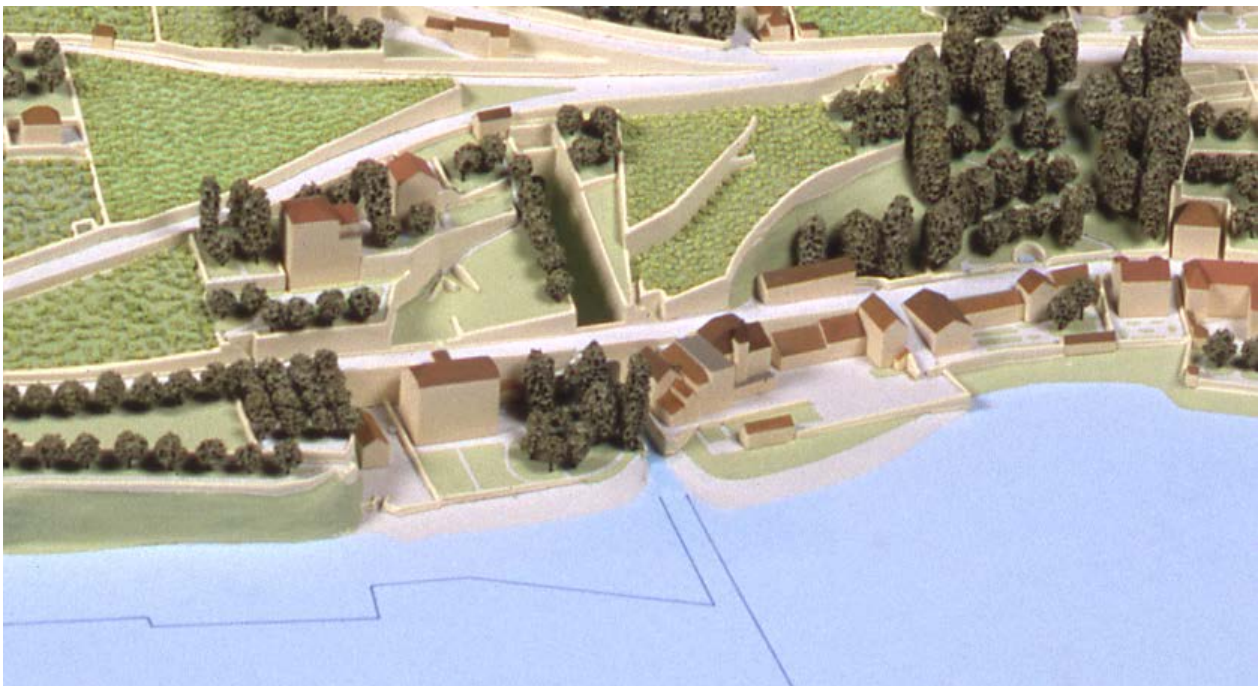
Entre la quatrième maquette (1650) et la cinquième (1776), la ville se développe dans deux directions principales. Lesquelles ?

1.

2.

7. LA RIVIÈRE DÉMÉNAGE !

Le Seyon a longtemps coulé au centre de la ville. Puis on l'a détourné parce qu'il servait d'égout à ciel ouvert (beurk !) et que ses crues causaient de gros dégâts. Sur quelle maquette voit-on la nouvelle « sortie » du Seyon dans le lac ?



Année de la maquette : _____

8. QU'EST-CE QUI VIENT AVANT QUOI ?

Regarde bien les différentes maquettes et classe ces lieux dans leur ordre d'apparition :

- _____ : L'autoroute
- _____ : La collégiale
- _____ : La place des Halles
- _____ : L'hôtel (le « palais ») DuPeyrou
- _____ : La gare

9. VROUM ! LA VILLE AU TEMPS DE TES GRANDS-PARENTS

La septième maquette te montre la ville en 1978. Quel était alors le moyen de transport le plus utilisé ?

.....

Qui étaient les membres de ta famille qui vivaient déjà en ce temps-là ?

.....

.....

10. C'EST TOI LE MAQUETTISTE !

Reporte-toi au petit cahier en annexe pour construire la Tour de Diesse.

BRAVO, TU AS FINI !